

# BREVET DE TECHNICIEN SUPÉRIEUR

## ÉLECTROTECHNIQUE

SESSION 2008

---

### ÉPREUVE E4.1

#### Étude d'un système technique industriel Pré-étude et modélisation

Durée : 4 Heures ~ Coefficient : 3

---

*Calculatrice à fonctionnement autonome autorisée conformément à la circulaire n°99-186 du 16/11/99. L'usage de tout autre matériel ou documents est interdit.*

---

Les parties A1, A2, B1, B2, B3 sont indépendantes

---

- Il sera tenu compte de la qualité de rédaction, en particulier pour les réponses aux questions ne nécessitant pas de calcul. Le correcteur attend des phrases complètes respectant la syntaxe de la langue française.
- Utiliser les notations indiquées dans le texte, justifier toutes les réponses, présenter clairement les calculs et les résultats.

## Jeux d'eau au parc du château de Versailles

### Réseau hydraulique



Les fontaines du parc du château de Versailles sont alimentées par plusieurs réservoirs situés à une altitude supérieure à l'altitude des fontaines. Lorsqu'on décide de faire « jouer » (suivant l'expression consacrée) les fontaines, il suffit d'ouvrir des vannes ; l'eau s'écoule naturellement par gravitation en créant les magnifiques jets d'eau des différents parterres et bassins.

Nous n'étudierons pas exhaustivement le fonctionnement de tous les bassins, et seule une partie du réseau hydraulique sera étudiée. Un croquis établi à partir d'une vue aérienne de Versailles présente, à la figure 1 page suivante, les parties du réseau hydraulique qui vont être étudiées dans ce problème.

Le spectacle actuel des grandes eaux étant bien plus long que sous le règne du Roi-Soleil, les jeux d'eau du bassin de Latone subissent une dégradation au cours du spectacle.

#### **L'enjeu de l'étude est d'améliorer la qualité des jeux d'eau des fontaines du bassin de Latone.**

Ces fontaines sont alimentées par le réservoir sous terre Nord, comme indiqué à la figure 1. Une modification de l'alimentation de ce réservoir doit être réalisée pour répondre à cet enjeu. La problématique est alors la suivante :

#### **Comment maintenir constant le niveau du réservoir sous terre Nord pendant la durée des jeux d'eau?**

Le réservoir de Montbauron alimente une grande partie des fontaines situées dans la partie supérieure du parc, en particulier le jet d'eau du parterre Nord. Dans la première partie du problème nous allons nous intéresser à ce jet d'eau. Le parcours idéalisé de la conduite d'alimentation est représenté sur la figure 1. Cette première partie doit nous permettre de comprendre comment garantir la hauteur d'un jet d'eau et répondre ainsi à l'enjeu.

Dans la seconde partie de ce problème, nous nous intéresserons à la solution retenue par le service des fontaines pour répondre à la problématique énoncée ci-dessus.

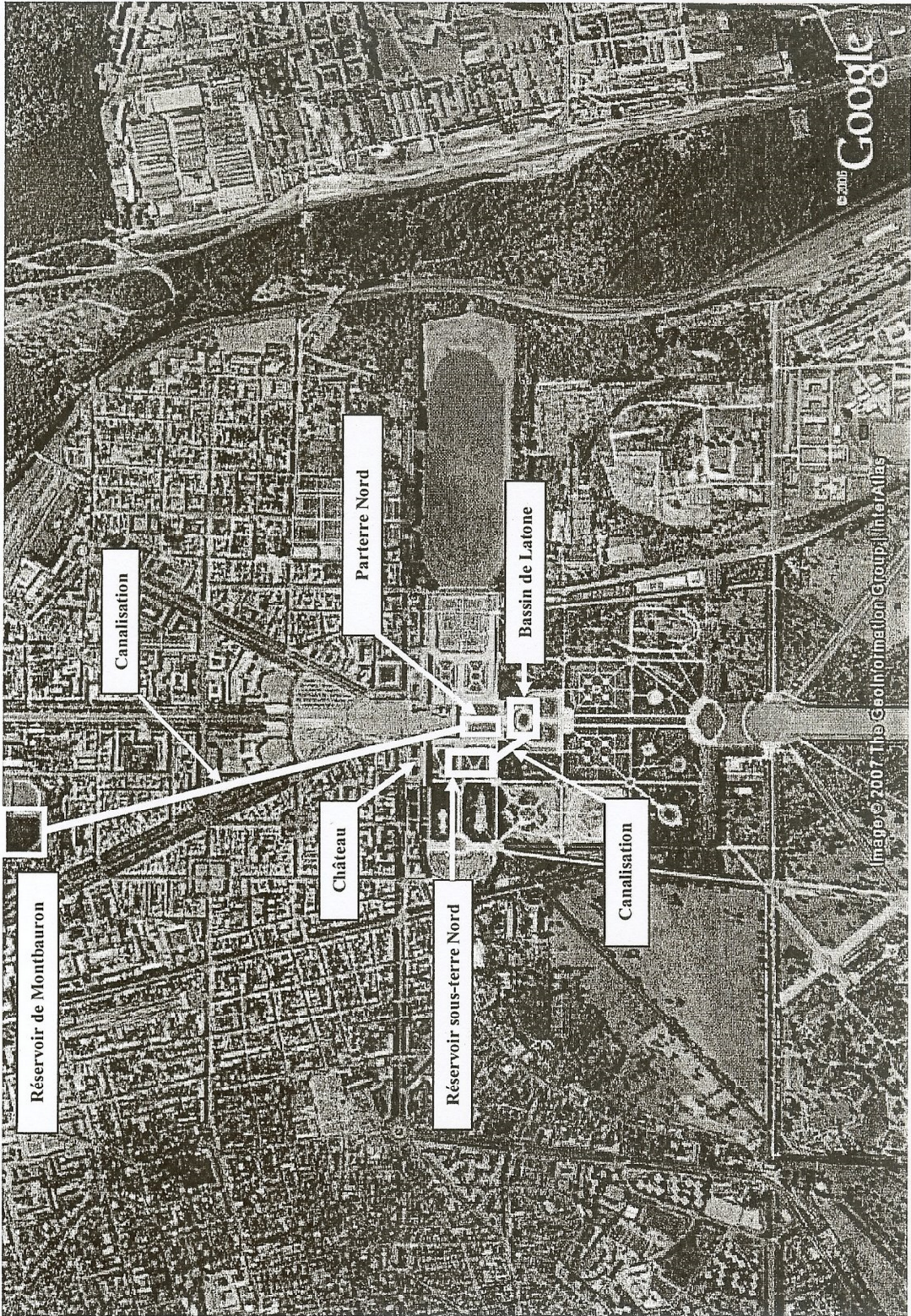
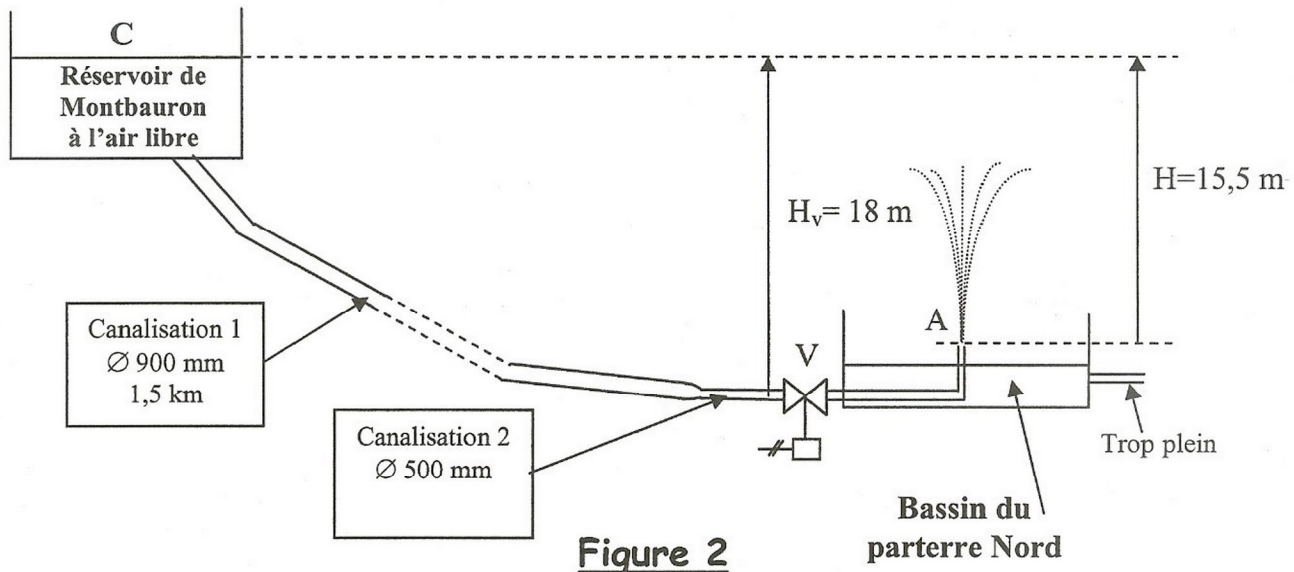


Figure 1

## A. COMMENT GARANTIR LA HAUTEUR D'UN JET D'EAU ?

Intéressons-nous à l'alimentation d'un seul jet d'eau, celui du parterre Nord dont le circuit hydraulique est représenté figure 2 : c'est un croquis et les distances ne sont pas représentées à l'échelle.

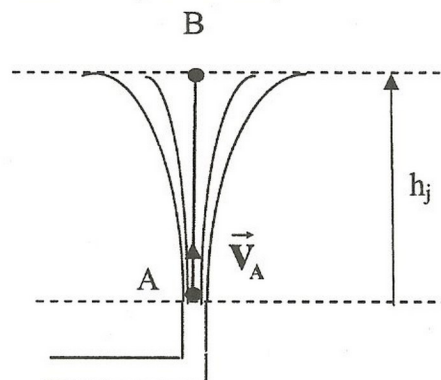


L'eau s'écoule par gravitation du réservoir de Montbauron au bassin du parterre Nord situé sur la grande terrasse. Une vanne V, commandée en tout ou rien, permet d'empêcher ou d'autoriser l'écoulement. L'eau du jet est récupérée dans le bassin et s'écoule par un trop plein vers d'autres bassins non étudiés.

On rappelle que la masse volumique de l'eau  $\rho$  est égale à  $1000 \text{ kg.m}^{-3}$  et on adoptera comme valeur de l'accélération de la pesanteur  $g = 9,81 \text{ m.s}^{-2}$ . La pression atmosphérique notée  $p_{at}$  sera prise égale à  $1,013 \cdot 10^5 \text{ Pa}$ . Le fluide est considéré comme incompressible.

### A.1. HAUTEUR DU JET D'EAU

Suivons le déplacement d'une petite masse  $m$  d'eau, entre les points A et B représentés à la figure ci-dessous. On appelle  $\vec{v}_A$  la vitesse de cette petite masse d'eau à la sortie de la conduite au niveau du bassin. B est la position moyenne pour laquelle la vitesse est nulle. On adopte une énergie potentielle nulle en A et on note  $h_j$  la hauteur moyenne du jet.



- A.1.1. Donner l'expression de l'énergie cinétique, notée  $E_{cA}$ , de la petite masse  $m$  d'eau en A.
- A.1.2. Donner la valeur de l'énergie cinétique, notée  $E_{cB}$ , de la petite masse  $m$  d'eau en B.
- A.1.3. Donner la valeur de l'énergie potentielle, notée  $E_{pA}$ , de la petite masse  $m$  d'eau en A.
- A.1.4. Donner l'expression de l'énergie potentielle, notée  $E_{pB}$ , de la petite masse  $m$  d'eau en B.
- A.1.5. En exploitant le principe de conservation de l'énergie mécanique, trouver la relation existant entre la vitesse  $v_A$  et la hauteur du jet  $h_j$ . Calculer la valeur de  $h_j$  lorsque  $v_A = 17,4 \text{ m.s}^{-1}$ .
- A.1.6. Quel phénomène a-t-on négligé ? Comment sera la hauteur du jet réel par rapport à la valeur calculée ?

## A.2. ETUDE DE L'ALIMENTATION DU JET D'EAU

A.2.1. En régime statique, la vanne V est fermée, calculer la pression  $p_v$  au niveau de la vanne du coté amont (coté de la canalisation 2).

A.2.2. En régime dynamique, la vanne V est maintenant ouverte, et on suppose l'écoulement laminaire et permanent. Nous nous proposons d'évaluer les vitesses de l'eau dans les différentes parties du circuit hydraulique **sans tenir compte des pertes de charge**. On adoptera une vitesse d'écoulement égale à zéro au point C (en raison de la grande surface du réservoir de Montbaouron) ; et on s'appuiera pour les raisonnements sur le document réponse 1.

On peut appliquer le principe de conservation de l'énergie le long de cet écoulement. Elle est traduite par l'équation de Bernoulli :

$$\frac{p_C - p_A}{\rho} + g(z_C - z_A) + \frac{v_C^2 - v_A^2}{2} = 0 \quad (\text{chaque terme est en } \text{J.kg}^{-1}).$$

- A.2.2.1. Que représente la grandeur  $p$  ?
- A.2.2.2. Quelle est la valeur de  $p$  au point C, notée  $p_C$  ? L'indiquer sur le document réponse 1.
- A.2.2.3. Quelle est la valeur de  $p$  au point A, notée  $p_A$  ? L'indiquer sur le document réponse 1.
- A.2.2.4. Que représente la grandeur  $z$  ?
- A.2.2.5. Quelle est la valeur de  $z$  au point A, notée  $z_A$  ? L'indiquer sur le document réponse 1.
- A.2.2.6. Quelle est la valeur de  $z$  au point C, notée  $z_C$  ? L'indiquer sur le document réponse 1.
- A.2.2.7. Que représente la grandeur  $v$  ?
- A.2.2.8. Quelle est la valeur de  $v$  au point C, notée  $v_C$  ? L'indiquer sur le document réponse 1.
- A.2.2.9. En utilisant l'équation de Bernoulli, calculer la valeur de  $v$  au point A, notée  $v_A$ .
- A.2.2.10. On rappelle l'expression du débit volumique  $Q$  d'un fluide s'écoulant à la vitesse  $v$  dans une canalisation qui a une section de surface  $S$  :  $Q = Sv$  où  $Q$  est en  $\text{m}^3.\text{s}^{-1}$ ,  $v$  en  $\text{m.s}^{-1}$  et  $S$  en  $\text{m}^2$ . Calculer la valeur du débit volumique  $Q$  au point A si le diamètre de la section de la tuyère est  $d_A = 110 \text{ mm}$ .

A.2.2.11. Quelle est la grandeur qui se conserve le long du circuit hydraulique?

A.2.2.12. En déduire les vitesses dans les deux canalisations :  $v_1$  dans la canalisation de diamètre  $d_1 = 900$  mm et  $v_2$  dans la canalisation de diamètre  $d_2 = 500$  mm.

A.2.3. Ces vitesses permettent de déterminer les pertes de charges totales  $J$  du circuit hydraulique que l'on prend égales à  $17,8 \text{ J.kg}^{-1}$ . La nouvelle équation de Bernoulli est :

$$\frac{p_C - p_A}{\rho} + g(z_C - z_A) + \frac{v_C^2 - v_A^2}{2} = J$$

A.2.3.1. Calculer la nouvelle valeur de la vitesse  $v_A$  au point A.

A.2.3.2. A quelle perte de hauteur d'eau correspondent ces pertes de charge?

### A.3. RETOUR SUR L'ENJEU

A.3.1. Sachant que l'alimentation de tous les jets d'eau alimentés par le réservoir de Montbauron correspond à un débit de  $2500 \text{ m}^3 \cdot \text{h}^{-1}$  et que les jeux d'eau durent 1 heure 30 minutes, calculer le volume d'eau utilisé. Ce volume est noté  $V_{mb}$ .

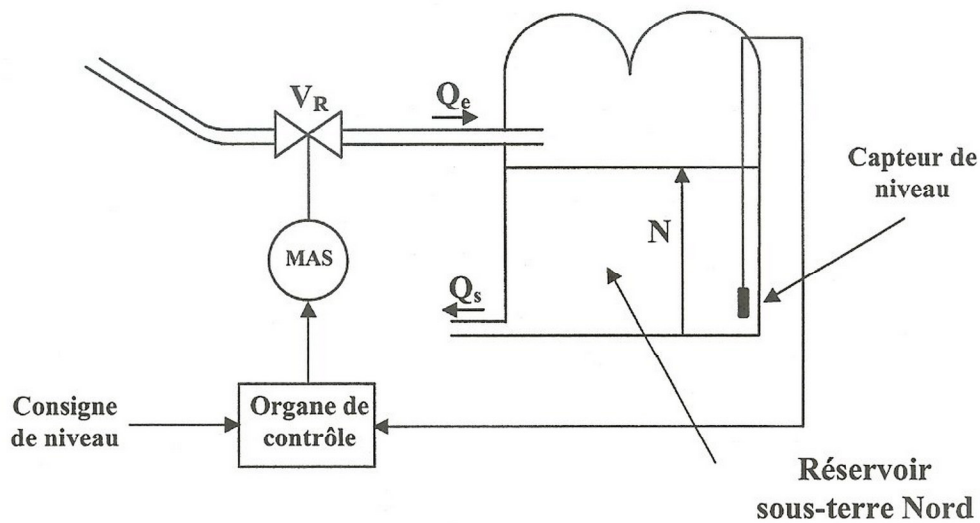
A.3.2. En déduire la diminution  $\Delta H$  du niveau dans le réservoir de Montbauron, sachant que la surface  $S_{mb}$  de ce réservoir est  $16000 \text{ m}^2$ . Quelle serait la conséquence d'une diminution importante de ce niveau ?

## B. SOLUTION RETENUE POUR MAINTENIR UN NIVEAU CONSTANT

Les fontaines du bassin de Latone sont alimentées par le réservoir sous-terre Nord de volume beaucoup moins important que celui de Montbauron. Le dénivelé entre le niveau d'eau dans ce réservoir et les jets d'eau concernés étant moindre qu'à l'étude précédente, la diminution du niveau de ce réservoir au cours des jeux d'eau a une influence relative plus grande.

La solution retenue par le service des fontaines pour assurer la qualité des jets d'eau du bassin de Latone comprend une modification du circuit hydraulique, qui n'est pas étudiée dans ce problème, et/ou une régulation du niveau de ce réservoir. Les éléments assurant cette régulation sont représentés à la figure 3.

- $V_R$  est une vanne de régulation dont l'ouverture permet de contrôler le débit de remplissage du réservoir.
- Le moteur asynchrone permet de régler l'ouverture de la vanne.
- Le capteur de niveau permet de transmettre la valeur réelle du niveau à l'organe de contrôle
- L'organe de contrôle comprend un régulateur dont les réglages conditionnent le comportement de la boucle de régulation.

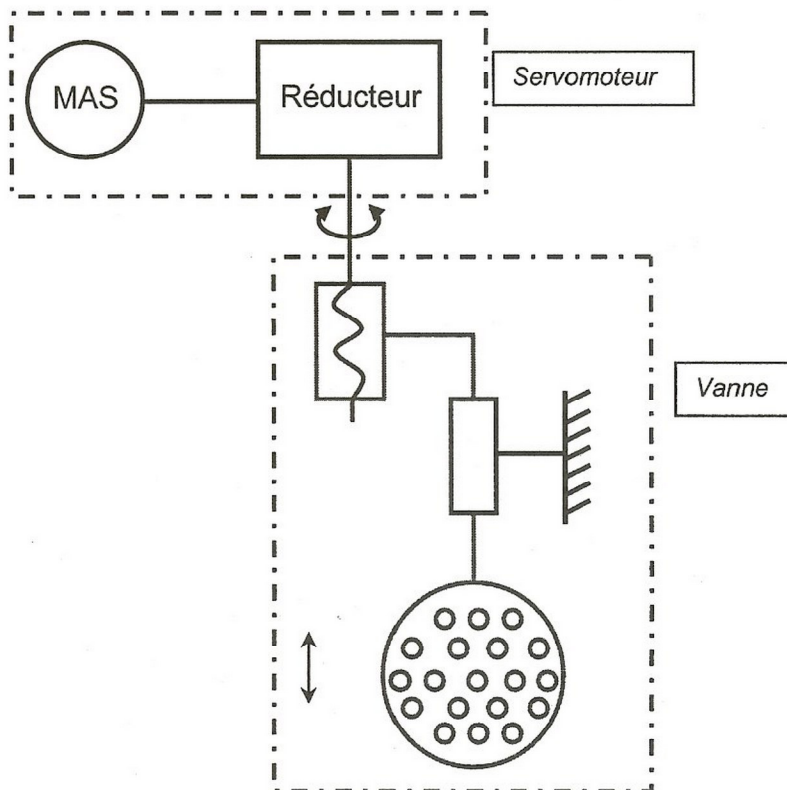


**Figure 3**


Nous allons étudier les différents éléments de la solution retenue.

### B.1. DIMENSIONNEMENT DU SERVOMOTEUR QUI ACTIONNE LA VANNE

La vanne de régulation est composée de deux disques percés de trous dont l'un peut glisser par rapport à l'autre, en translation verticale, modifiant ainsi la section de passage de l'eau et permettant le contrôle fin du débit. La représentation de la chaîne cinématique est donnée à la figure 4, ainsi qu'une photographie de la vanne.



**Figure 4**



Sapag

Les données mécaniques sont les suivantes.

- La course (excursion totale) de la vanne, notée  $d_v$ , est de 23 mm.
- Le temps nécessaire à l'ouverture complète de la vanne, noté  $\Delta t$ , est de 138 s.
- Le pas de vis  $p$  (déplacement vertical correspondant à une rotation d'un tour de la commande de la vanne) vaut 4 mm.
- L'effort maximal  $F$  permettant la translation de la vanne vaut 20 kN.
- Le rendement  $\eta_v$  de l'ensemble des guidages de la vanne vaut 26 %.

Afin de dimensionner le servomoteur qui actionne cette vanne, les grandeurs principales à déterminer sont le couple à fournir  $C_{sv}$ , la vitesse de rotation  $n_{sv}$  et le nombre de tours  $N_{br}$  nécessaire pour assurer la course totale de la vanne.

- B.1.1. Calculer la vitesse de translation de la vanne  $v_v$ .
- B.1.2. Calculer le nombre de tours  $N_{br}$  que doit faire l'arbre en sortie de réducteur pour obtenir l'excursion totale du déplacement de la vanne.
- B.1.3. Exprimer la vitesse de rotation, notée  $n_{sv}$ , du servomoteur à la sortie du réducteur en fonction de  $v_v$  et du pas de la vis  $p$ . Calculer  $n_{sv}$  en tr/min.
- B.1.4. Sachant que l'effort maximal  $F$  permettant la translation de la vanne est de 20 kN et en tenant compte du rendement des guidages, exprimer le moment du couple, noté  $C_{sv}$ , fourni par le servomoteur à la sortie du réducteur. Calculer  $C_{sv}$ .
- B.1.5. Le rapport de réduction du réducteur est  $r = 560$ . Calculer la vitesse de rotation, notée  $n$ , de l'arbre de la machine asynchrone.
- B.1.6. Le rendement du réducteur étant de 22%, calculer la valeur du moment du couple, noté  $C_{MAS}$ , que doit développer la machine asynchrone pour déplacer la vanne.
- B.1.7. Calculer la puissance mécanique utile  $P_u$  de la machine asynchrone.

## B.2. CARACTERISTIQUES ET SERVICE DE FONCTIONNEMENT DE LA MACHINE ASYNCHRONE TRIPHASEE

Le domaine des machines de petites puissances est très différent de celui des machines de fortes puissances et les valeurs numériques ont des ordres de grandeurs très différents de ceux auxquels nous sommes habitués pour les plus fortes puissances, en particulier les valeurs des rendements.

La machine asynchrone triphasée choisie est couplée en étoile et a un point nominal défini par les valeurs suivantes :

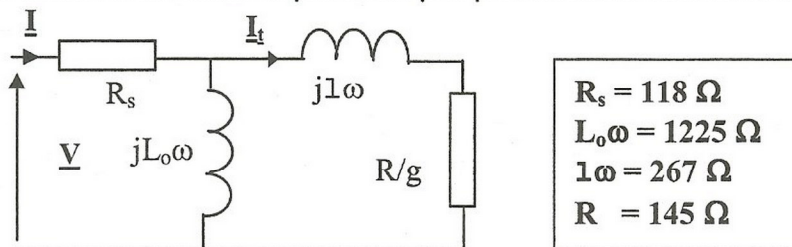
$$P_{un} = 60W ; n_n = 1400tr/min ; U_n = 400V ; f = 50Hz ; I_n = 0,3A ; \cos\phi = 0,8.$$

Elle possède deux paires de pôles.

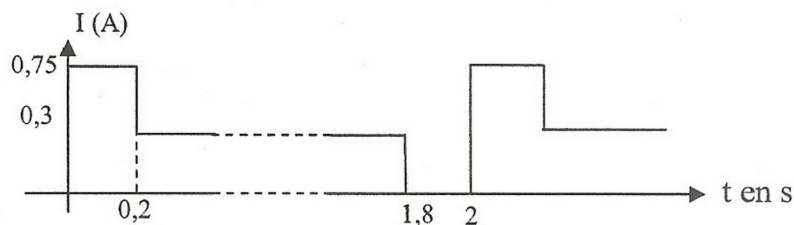
- B.2.1. Quelle est la valeur du glissement  $g_N$  ?
- B.2.2. Que doit-on prévoir au niveau de l'alimentation pour permettre la rotation dans les deux sens ?
- B.2.3. Calculer la valeur du moment du couple utile  $C_{MAS}$ .
- B.2.4. Calculer les valeurs des puissances active  $P_a$  et réactive  $Q_a$  absorbées par la machine asynchrone au point nominal.
- B.2.5. Calculer le rendement de la machine asynchrone.



La boucle de régulation de la position de la vanne impose au moteur des démarrages fréquents pendant les régimes transitoires. Pour calculer le courant de démarrage, utilisons le schéma équivalent par phase de la machine asynchrone :



- B.2.6. Que représentent les grandeurs  $R_s$ ,  $R$ ,  $1\omega$  et  $L_0\omega$  ?
- B.2.7. Que vaut le glissement au démarrage de la machine asynchrone ?
- B.2.8. On se propose de calculer la valeur efficace du courant de démarrage, noté  $I_d$ , de la machine asynchrone, démarrage effectué sous tension nominale.
- B.2.8.1. Déterminer l'impédance équivalente  $\underline{Z}$  à la branche formée par  $R/g$  et  $1\omega$  pour le démarrage.
- B.2.8.2. On remplace les deux branches formées par  $L_0\omega$  et l'impédance précédemment calculée par une impédance  $\underline{Z}_e$  équivalente dont on donne l'expression  $\underline{Z}_e = 96,6 + j229$ . En déduire la valeur de l'impédance totale  $\underline{Z}_{eT}$  équivalente à l'ensemble du schéma.
- B.2.8.3. Calculer la valeur de  $I_d$ .
- B.2.9. Soit un cycle de fonctionnement pour lequel les variations de la valeur efficace du courant en fonction du temps sont représentées :



Compte tenu de ces démarrages, calculer la valeur efficace équivalente de  $I$  sur un cycle.

- B.2.10. Quelle est la conséquence de ce type de fonctionnement sur l'échauffement du moteur ?
- B.2.11. Calculer le nombre de démarrages par heure correspondant à ce cycle.

### B.3. REGULATION DE NIVEAU

La section du réservoir a une surface égale à  $S_R = 1103 \text{ m}^2$ . Le niveau d'eau maximal mesurable est  $N_{\max} = 2 \text{ m}$  et le niveau minimal est  $N_{\min} = 0 \text{ m}$ . Le débit de remplissage est noté  $Q_e$  et le débit de vidange est noté  $Q_s$  (voir figure 3).

B.3.1. Pendant un petit intervalle de temps noté  $dt$ , le niveau a varié d'une hauteur notée  $dN$ .

B.3.1.1. Quel est le volume d'eau  $dV$  correspondant à la variation de niveau  $dN$  ?

B.3.1.2. Montrer que l'on peut exprimer  $\frac{dN}{dt}$  en fonction de  $Q_e$ ,  $Q_s$  et  $S_R$

$$\text{par la relation } \frac{dN}{dt} \cdot S_R = Q_e - Q_s.$$

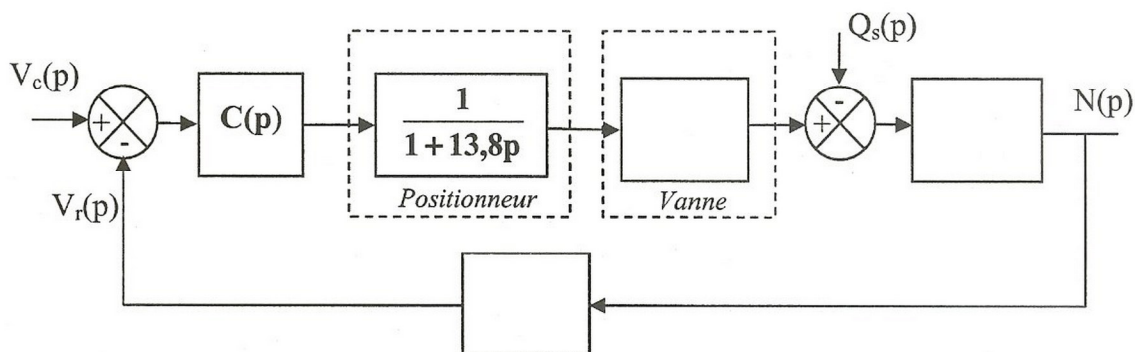
B.3.1.3. Pour l'étude du régime dynamique, on applique la transformation de Laplace à l'équation trouvée à la question précédente. En déduire la relation entre  $Q_e(p)$ ,  $Q_s(p)$ ,  $N(p)$  et  $S_R$  avec des conditions initiales nulles.

La position de la vanne qui contrôle le débit  $Q_e$  est notée  $x$ . Cette position est donnée en pourcentage : 0% pour le débit minimal supposé nul et 100% pour le débit maximal ; on suppose que le débit est proportionnel à la position de la vanne et que la relation entre ces deux grandeurs est :

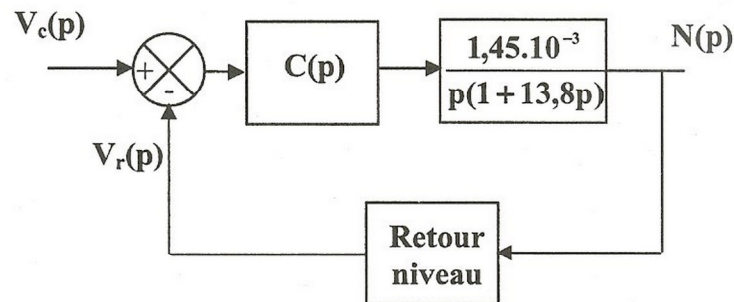
$$Q_e = K_x x = 1,6 \cdot 10^{-3} x \text{ avec } Q_e \text{ exprimé en } \text{m}^3 \cdot \text{s}^{-1} \text{ et } 0 < x < 100.$$

L'information donnée par le capteur de niveau est convertie en un nombre réel, qu'on appellera  $V_r$ , stocké dans l'automate. La consigne de niveau, notée  $N_c$ , stockée dans l'automate, est également convertie en un nombre réel noté  $V_c$ . La relation entre le niveau  $N$  et le nombre réel de retour est  $V_r = k_N N$  avec  $k_N = 1000 \text{ m}^{-1}$ . La différence  $V_c - V_r$  est notée  $\varepsilon$ .

La boucle d'asservissement de la position de la vanne commandée par le servomoteur ne sera pas étudiée, et bien que le régulateur implanté dans l'automate soit de type numérique, nous faisons une étude analogique linéaire équivalente. Avec ces hypothèses, le schéma fonctionnel de l'asservissement de niveau est :



- B.3.2. Indiquer sur le document réponse 2 les grandeurs manquantes en les nommant, ainsi que les transmittances manquantes.
- B.3.3. En régime statique, quelle doit être la relation entre le débit de remplissage  $Q_e$  et le débit de vidange  $Q_s$  pour que le niveau reste constant ?
- B.3.4. Le débit  $Q_s$  vaut  $0,1 \text{ m}^3 \cdot \text{s}^{-1}$  et le régime statique est atteint.
- B.3.4.1. Que vaut  $Q_e$  ?
- B.3.4.2. Que vaut  $x$  ?
- B.3.4.3. On adopte  $C(p) = 0,1$  pour  $p = 0$  (régime statique) ; calculer la valeur de l'erreur  $V_c - V_r$ .
- B.3.4.4. En déduire la valeur  $N_c - N$  correspondante.
- B.3.4.5. Que doit-on faire pour avoir une erreur statique nulle ?
- B.3.5. On étudie maintenant le comportement du système vis à vis d'une variation de la consigne de niveau, le débit de vidange restant constant. Le schéma fonctionnel devient :

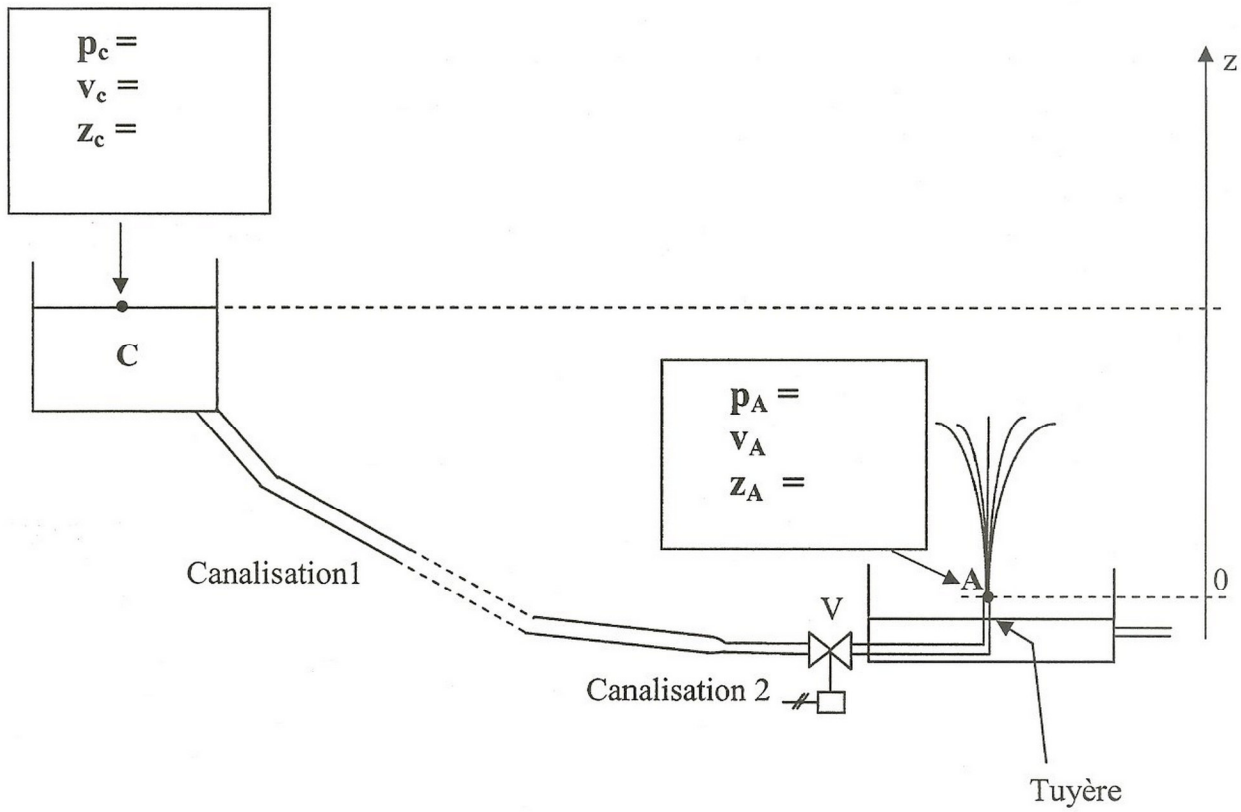


On adopte une correction proportionnelle, intégrale et dérivée avec

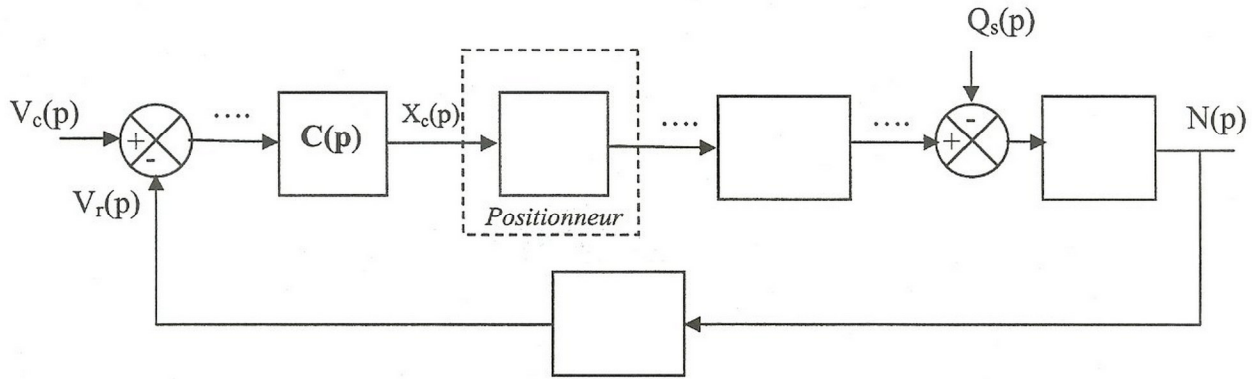
$$C(p) = A(1 + T_d p + \frac{1}{T_i p})$$

et on donne le diagramme de Bode de la transmittance en boucle ouverte  $T_{BO}(p)$ . Il est représenté sur le document réponse 3 pour  $A = 1$  ;  $T_i = 150 \text{ s}$  et  $T_d = 0$ .

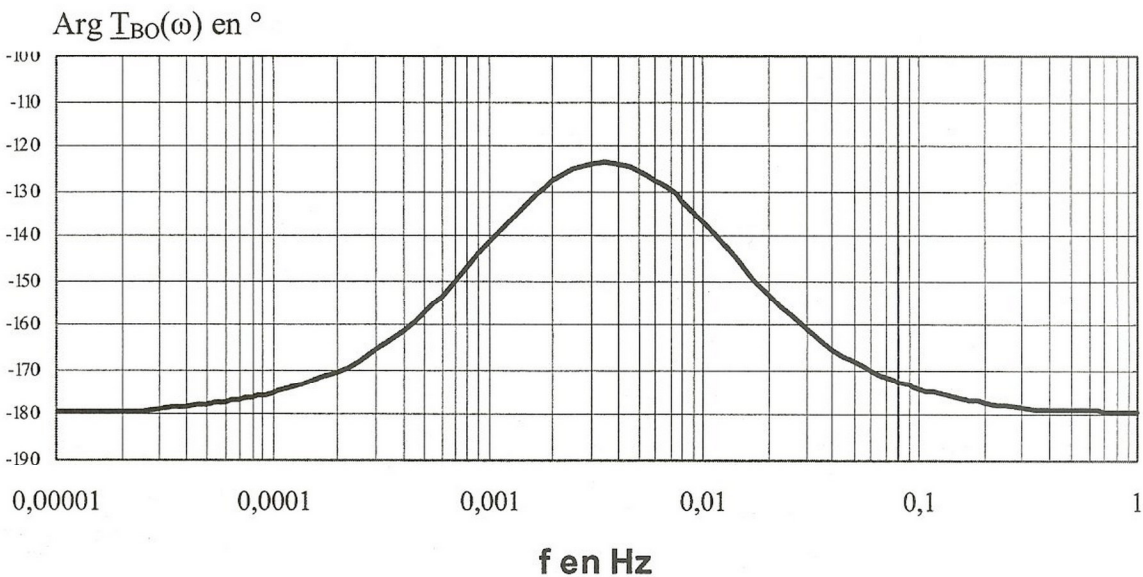
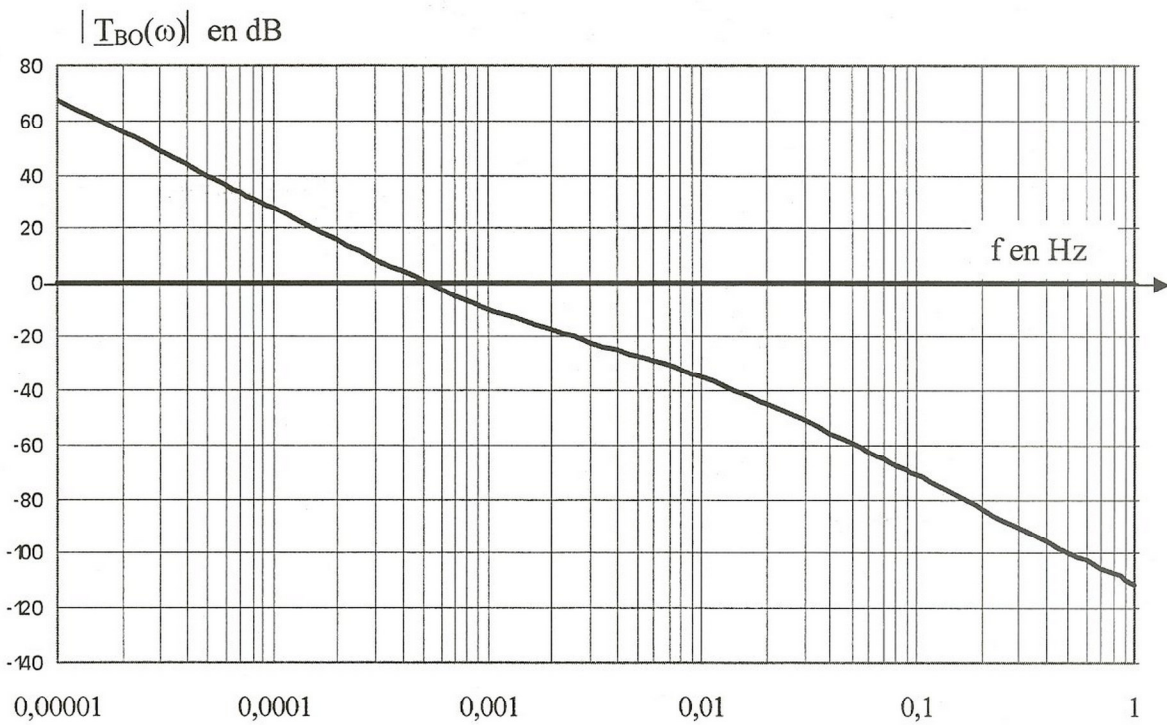
- B.3.5.1. Quelle condition doit respecter la marge de phase pour que le système soit stable ?
- B.3.5.2. Quelle est la valeur de la marge de phase ?
- B.3.5.3. Quelle nouvelle valeur doit-on donner à  $A$ , sans changer les autres paramètres, pour que la marge de phase soit maximale ?
- B.3.5.4. Préciser la valeur de la marge de phase dans ces conditions.
- B.3.5.5. Avec la valeur de  $A$  trouvée à la question précédente, on trouve une réponse indicielle représentée sur le document réponse 4. L'exploiter en donnant les valeurs :
- de l'erreur statique  $e$ ,
  - du temps de réponse  $t_r$  à 5%,
  - du dépassement  $D$  exprimé en % de la valeur finale.

*Document réponse 1*

### Document réponse 2



### Document réponse 3



*Document réponse 4*